



Индукция магнитного поля

Индукция магнитного поля

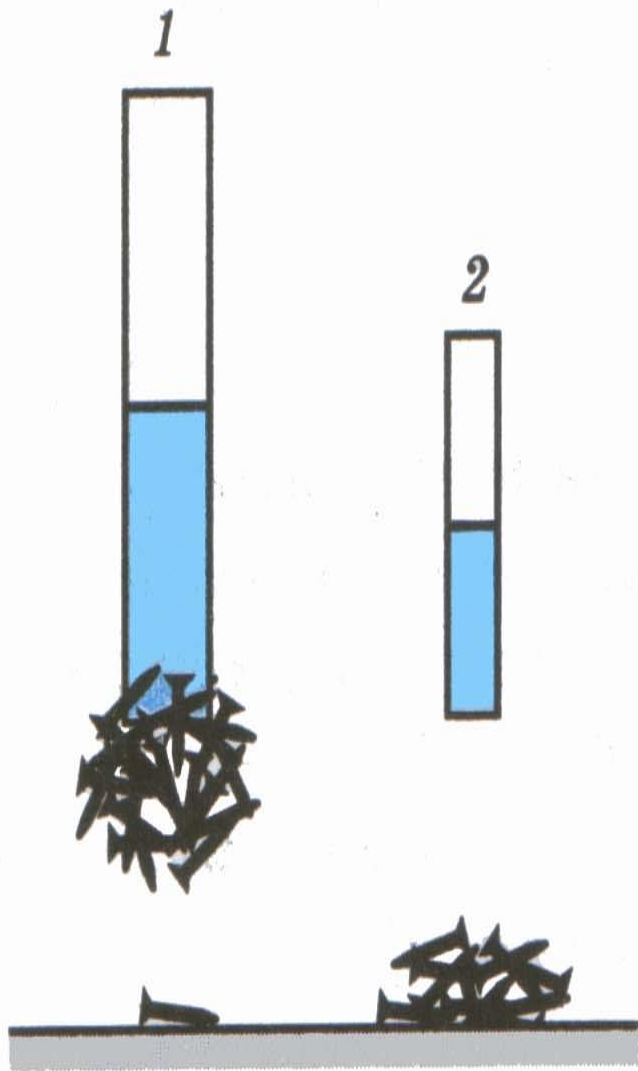


Рис. 116

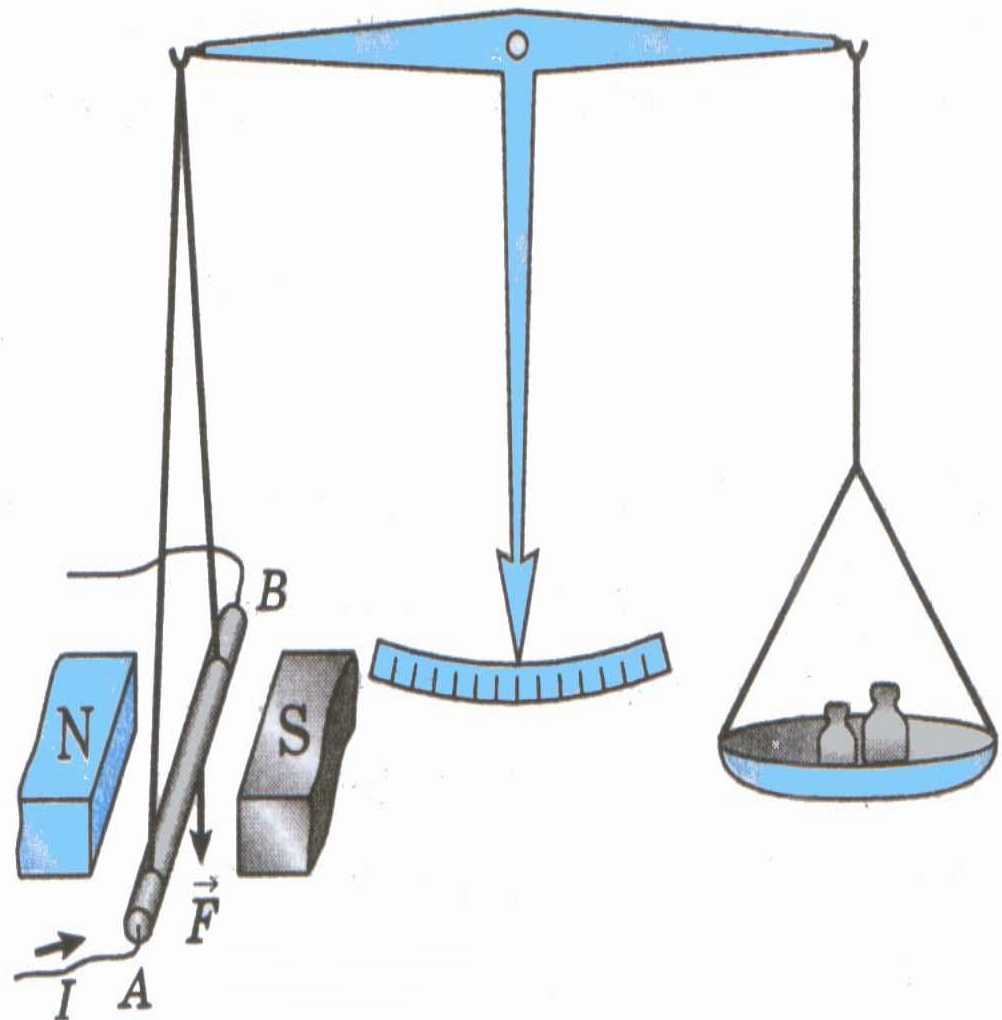
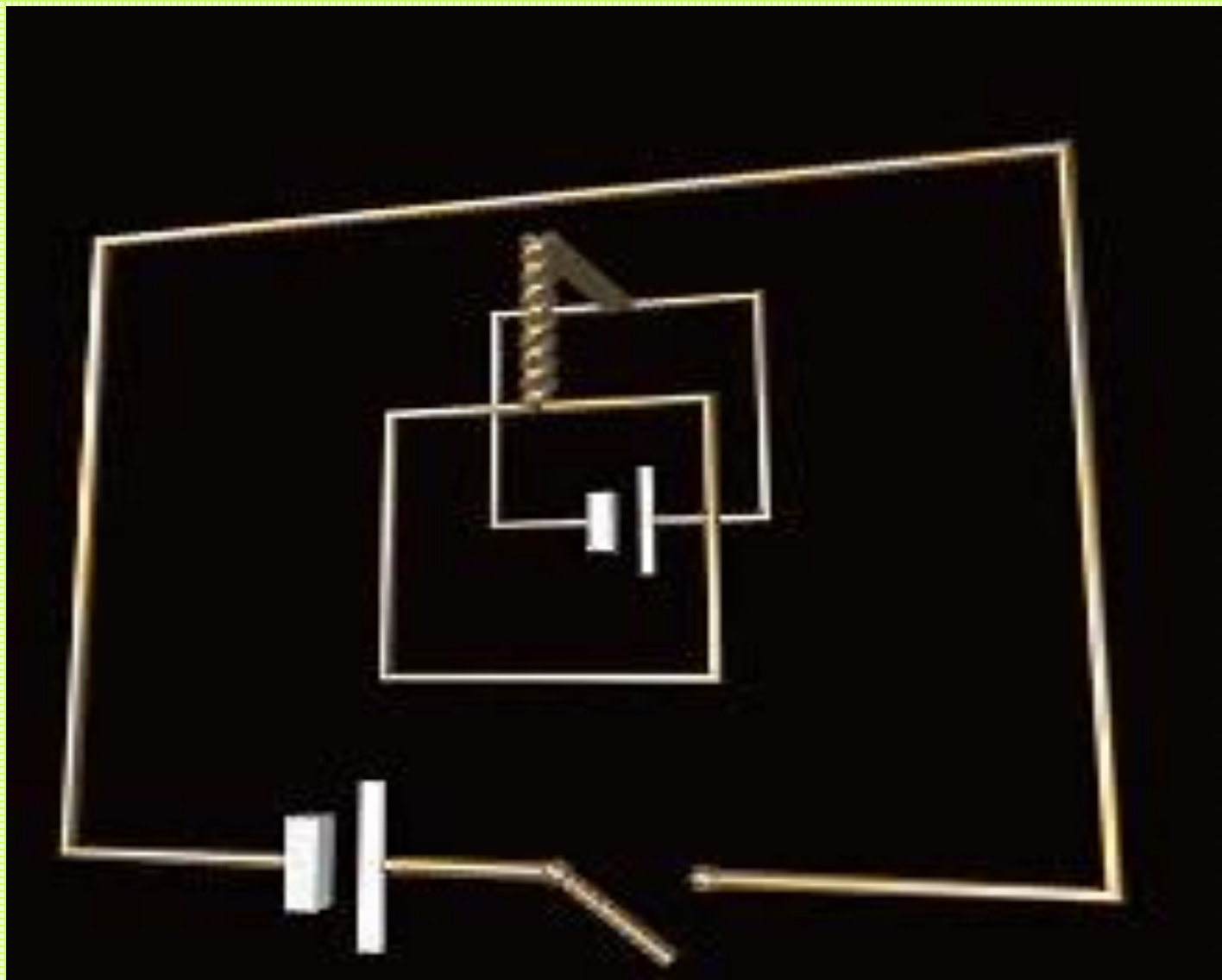


Рис. 117

Действие магнитного поля на рамку с током

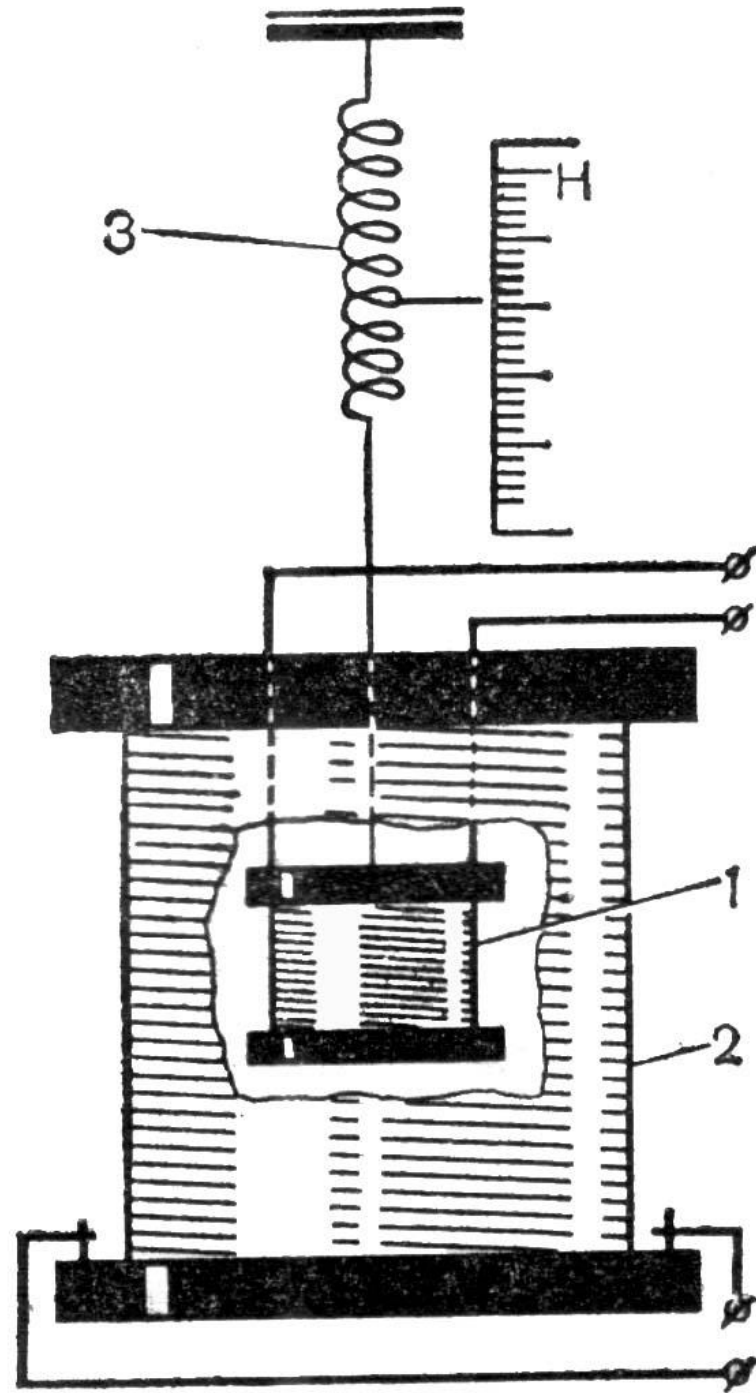


$$F \sim I$$

$$F \sim l$$

F зависит от свойств поля

- 1** – легкая катушка
- 2** – неподвижная катушка
- 3** – динамометр




Магнитное поле характеризуется
магнитной индукцией ***B***

$$F \sim B$$

Индукция магнитного поля измеряется силой, с которой магнитное поле действует на единицу длины проводника, по которому проходит ток в 1 А.

$$B = \frac{F}{I \cdot l}$$



$$B = \frac{F}{I \cdot l}$$

- **Модуль вектора магнитной индукции B** равен отношению модуля силы F , с которой магнитное поле действует на расположенный перпендикулярно магнитным линиям проводник с током, к силе тока I в проводнике и его длине l .

Единица магнитной индукции – 1 Тесла

$$B = \frac{F}{I \cdot l} = \frac{1H}{1A \cdot 1m} = 1 \frac{H}{A \cdot m} = 1Tл$$

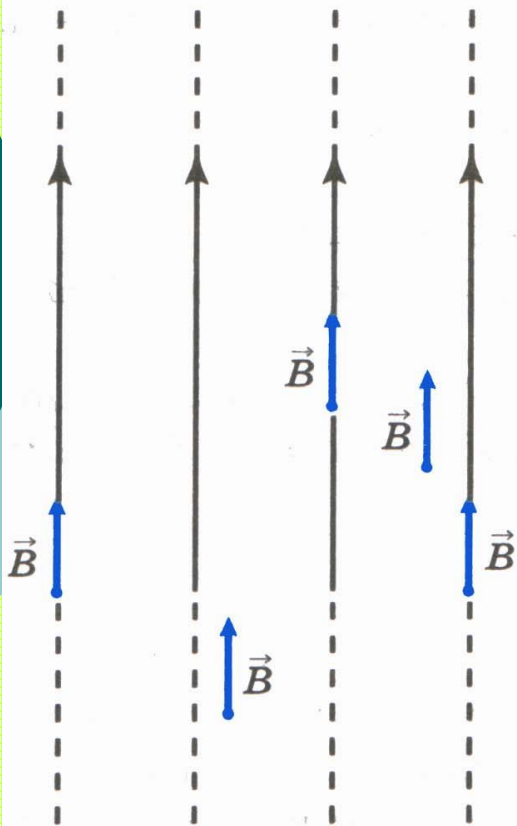


Рис. 119

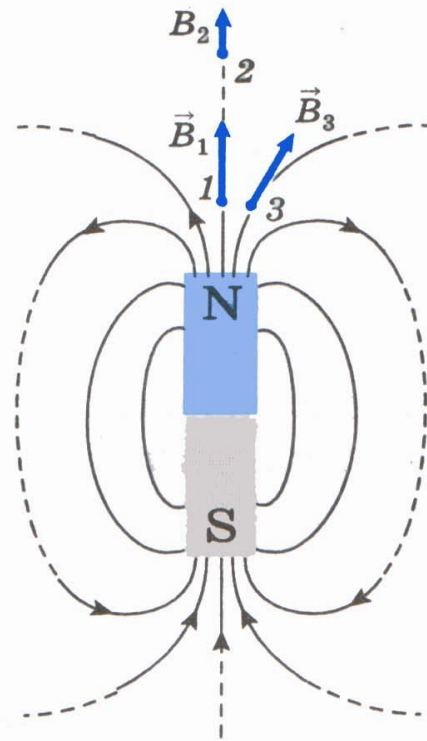


Рис. 120

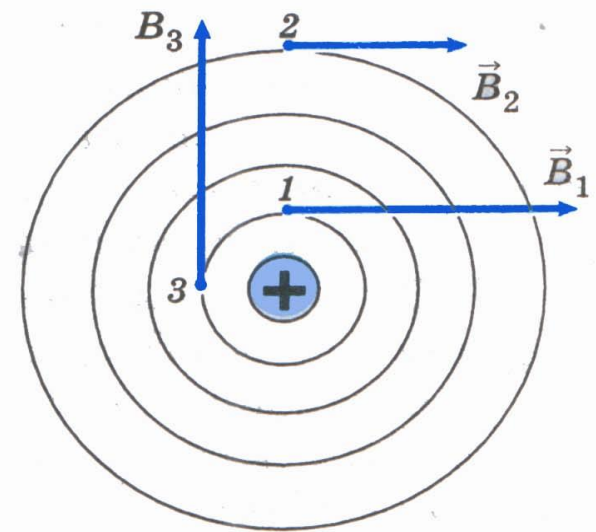


Рис. 121

- **Линиями магнитной индукции** называются линии, касательные к которым в каждой точке поля совпадают с направлением вектора магнитной индукции.

Закрепление

1. По какой формуле определяется модуль вектора магнитной индукции однородного магнитного поля? Выберите правильное утверждение.

A. $B = F \cdot I \cdot l$

Б. $B = \frac{F}{I \cdot l}$

В. $F = B \cdot I \cdot l$

Закрепление

2. Силовой характеристикой магнитного поля является... Выберите правильное утверждение.

А. ... магнитный поток.

Б. ... сила, действующая на проводник с током.

В. ... вектор магнитной индукции.

Закрепление

3. Единицей измерения магнитной индукции в СИ является... Выберите правильное утверждение.

А. ... тесла.

Б. ... джоуль.

В. ... ампер.

Закрепление

- 4.** Линии магнитной индукции отличаются от линий электростатического поля тем, что они... Выберите правильное утверждение.
- А.** ... пересекаются друг с другом.
 - Б.** ... замкнуты.
 - В.** ... начинаются на южном полюсе магнита.

Решите задачи:

1. Какова индукция магнитного поля, в котором на проводник с длиной активной части 5 см действует сила 50 мН? Сила тока в проводнике 25 А. Проводник расположен перпендикулярно линиям индукции магнитного поля.
2. На прямой проводник длиной 0,5 м, расположенный перпендикулярно силовым линиям поля с индукцией 0,02 Тл, действует сила 0,15 Н. Найти силу тока, протекающего по проводнику.

Решите задачи:

3. Какая сила действует со стороны однородного магнитного поля с индукцией 30 мТл на находящийся в поле прямолинейный провод длиной 50 см, по которому идет ток 12 А? Провод образует прямой угол с направлением вектора магнитной индукции поля.
4. Магнитное поле индукцией 10 мТл действует на проводник, в котором сила тока равна 50 А, с силой 50 мН. Найдите длину проводника, если линии индукции поля и ток взаимно перпендикулярны.